

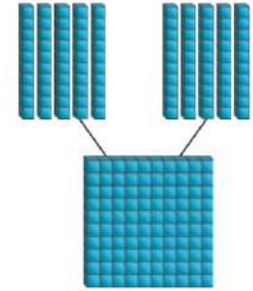
سَأَتَعَلَّمُ فِي هَذَا الدَّرْسِ

• قِرَاءَةَ وَكِتَابَةَ العَدَدِ ١٠٠ وَمُكُونَاتِهِ



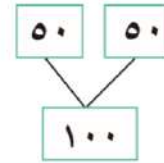
لِنَتَعَلَّمَ مَعًا

مَرِيَمُ مِنْ صَدِيقَاتِ المَكْتَبَةِ ذَهَبَتْ لِمُسَاعَدَةِ أَمِينَةِ المَكْتَبَةِ لِتَرْتِيبِ بَطَاقَاتِ الإِسْتِعَارَةِ فَحَصَلَتْ عَلَى خُرْمَتَيْنِ مِنَ البَطَاقَاتِ فِي كُلِّ مِنْهَا ٥ عَشْرَاتٍ. لِتُسَاعِدَ مَرِيَمَ لِتَعْرِفَ كَمْ بَطَاقَةً جَمَعَتْ؟



٥ عَشْرَاتٍ وَ ٥ عَشْرَاتٍ تَكُونَانِ ١٠ عَشْرَاتٍ

٥٠ وَ ٥٠ تَكُونَانِ ١٠٠



مَسَطَّحِ المِئَةَ

آحَادٌ	عَشْرَاتٌ	مِائَاتٌ
٠	٠	١

المفردات

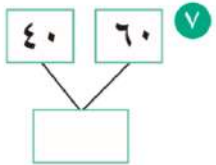
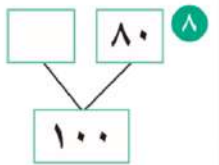
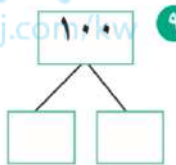
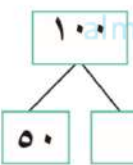
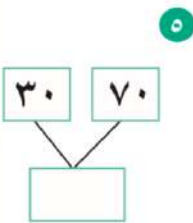

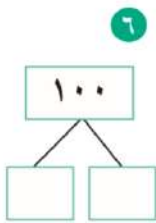

- مَكُونَاتٌ
- العَدَدِ ١٠٠
- مَسَطَّحِ
- المِئَةَ

عَبِّرْ عَنِ فَهْمِكَ بِمِ تَشَابَهِ العِبَارَتَانِ التَّالِيَتَانِ وَبِمِ تَخْتَلِفَانِ؟

٤٠ وَ ٦٠ تَكُونَانِ ١٠٠

٤ عَشْرَاتٍ وَ ٦ عَشْرَاتٍ تَكُونَانِ ١٠ عَشْرَاتٍ

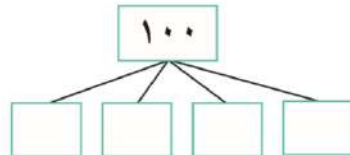

تَدْرَبْ مِثْلَ عَلَى شَبَكَةِ المُرَبَّعَاتِ ، ثُمَّ أَكْمِلْ.



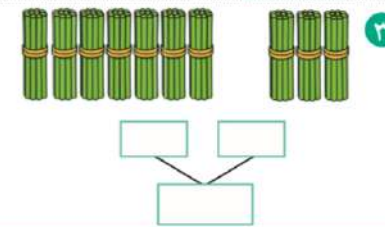
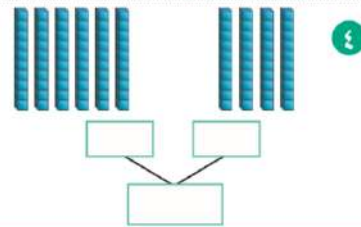
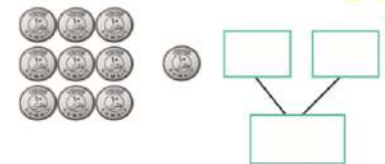
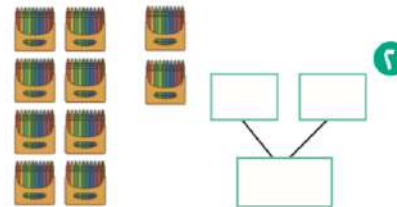
بَيْنَ كَيْفَ يَمَكِّنُكَ أَنْ تَمَثِّلَ ١٠٠ بِاسْتِخْدَامِ ٤ أَلْوَانٍ ، ثُمَّ أَكْمِلْ:



تَفَكِيرٌ نَاقِدٌ



حَاوِلْ اكْتُبْ مَكُونَاتِ العَدَدِ ١٠٠.



سَتَعَلَّمُ فِي هَذَا الدَّرْسِ

• العَدُّ بِدَءٍ مِنْ أَيِّ عَدَدٍ، عَدًّا تَصَاعُدِيًّا أَوْ عَدًّا تَنَازُلِيًّا حَتَّى ١٠٠

لِتَعَلَّمُ مَعًا

سَاعِدْ مَبَارَكٌ وَمَرْيَمُ لِإِكْمَالِ لَوْحَةِ الْمِئَةِ.



١	٢	٣	٤	٥	٦	٧	٨	٩	١٠
١١	١٢	١٣	١٤	١٥	١٦	١٧	١٨	١٩	٢٠
٢١	٢٢	٢٣	٢٤	٢٥	٢٦	٢٧	٢٨	٢٩	٣٠
٣١	٣٢	٣٣	٣٤	٣٥	٣٦	٣٧	٣٨	٣٩	٤٠
٤١	٤٢	٤٣	٤٤	٤٥	٤٦	٤٧	٤٨	٤٩	٥٠
٥١	٥٢	٥٣	٥٤	٥٥	٥٦	٥٧	٥٨	٥٩	٦٠
٦١	٦٢	٦٣	٦٤	٦٥	٦٦	٦٧	٦٨	٦٩	٧٠
٧١	٧٢	٧٣	٧٤	٧٥	٧٦	٧٧	٧٨	٧٩	٨٠
٨١	٨٢	٨٣	٨٤	٨٥	٨٦	٨٧	٨٨	٨٩	٩٠
٩١	٩٢	٩٣	٩٤	٩٥	٩٦	٩٧	٩٨	٩٩	١٠٠

المفردات

- العَدُّ
- التَّسْلِسِيُّ
- سَلْسِلَ
- الأَعْدَادِ
- بَعْدَ
- قَبْلَ
- بَيْنَ

أَكْمِلِ العَدَّ تَسْلِسِيًّا.



				٤٠	٤١	٤٢	٤٣	٤٤	
--	--	--	--	----	----	----	----	----	--

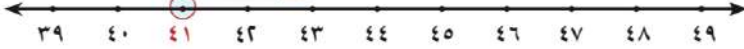
أَكْمِلِ سَلْسِلَ الأَعْدَادِ.



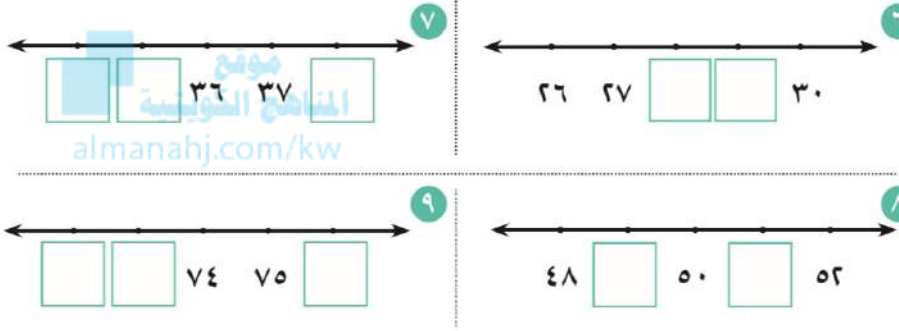
			٣٤	٣٥	٣٦				
٦٦	٦٥	٦٤							
	٧٣	٧٢	٧١						
	٢٩	٢٨		٢٦					

لِتَعَلَّمُ مَعًا

هذا مَوْقِعُ العَدَدِ ٤١
 ٤٢ يَأْتِي بَعْدَ العَدَدِ ٤١ مُبَاشِرَةً.
 ٤٠ يَأْتِي قَبْلَ العَدَدِ ٤١ مُبَاشِرَةً.
 ٤١ يَقَعُ بَيْنَ العَدَدَيْنِ ٤٠، ٤٢.

هذا مَوْقِعُ
العَدَدِ ٤١

أَكْمِلِ كِتَابَةَ رُمُوزِ الأَعْدَادِ عَلَى خَطِّ الأَعْدَادِ مُسْتَحْدِمًا العَدَّ.



١٠ اكتب الأعداد التي تأتي بعد العدد ٩٠ مباشرةً مُبْتَدَأًا مِنَ اليمين.

--	--	--	--	--	--	--	--	--	--

١١ اكتب الأعداد المحصورة بين ٦٩ و ٧٤



تفكير ناقد



سَتَتَعَلَّمُ فِي هَذَا الدَّرْسِ

• اسْتِخْدَامُ الْقِيَمَةِ الْمَكَانِيَّةِ لِمُقَارَنَةِ الْأَعْدَادِ وَتَرْتِيبِهَا حَتَّى مَنزِلَتَيْنِ (أَحَادٍ - عَشْرَاتٍ)



لَتَتَعَلَّمَ مَعًا

سَاعِدْ مَرِيَمَ وَمُبَارَكَ فِي تَرْتِيبِ الْأَعْدَادِ مِنَ الْأَصْغَرِ إِلَى الْأَكْبَرِ



المفردات

• تَرْتِيبُ الْأَعْدَادِ مِنَ الْأَصْغَرِ إِلَى الْأَكْبَرِ

• تَرْتِيبُ الْأَعْدَادِ مِنَ الْأَكْبَرِ إِلَى الْأَصْغَرِ

رَتِّبِ الْأَعْدَادَ التَّالِيَةَ (مِنَ الْأَصْغَرِ إِلَى الْأَكْبَرِ).



تَدْرَبْ

٧٢ ، ٥٦ ، ٧٩
 ، ، ٣

٨ ، ٣٠ ، ٢٦
 ، ، ٢

٩٣ ، ٩١ ، ٩٧
 ، ، ٥

٢٢ ، ٥٠ ، ٤٧
 ، ، ٤

رَتِّبِ الْأَعْدَادَ التَّالِيَةَ (مِنَ الْأَكْبَرِ إِلَى الْأَصْغَرِ).

٣٨ ، ٦٥ ، ١٩
 ، ، ٧

٣٩ ، ٥٤ ، ٩
 ، ، ٦

٢١ ، ٢٩ ، ٢٤
 ، ، ٩

٩٣ ، ٤٨ ، ٨٩
 ، ، ٨



تفكير ناقد



١٠ باع ثلاثة أصدقاء تذكار حفل أحد الأندية الرياضية.

باع مبارك ٧٦ تذكرة. باع سالم ٥٨ تذكرة.

أما حمد فقد باع العدد الأقل من التذاكر.

كم من الممكن أن يكون قد باع حمد؟

تذكرة:



حاول

١ رَتِّبِ الْأَعْدَادَ مِنَ الْأَكْبَرِ إِلَى الْأَصْغَرِ. ٧٤ ، ٧ ، ٦٢

الأعداد مرتبة من الأكبر إلى الأصغر. ، ، ٧٤

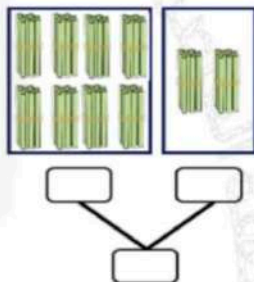
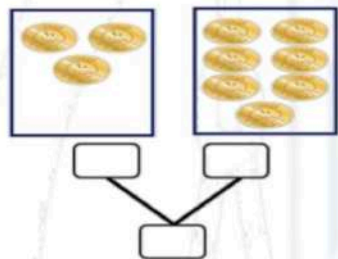
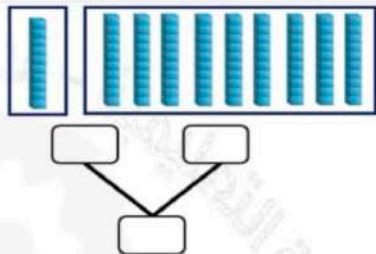
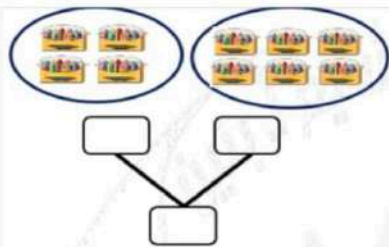
إذا أردت أن تضع العدد ٨٢ بين هذه الأعداد المرتبة من الأكبر إلى الأصغر

فأين تضعه؟ ولماذا؟ ٢٦ ، ٨٦ ، ٩٦



عبر عن فهمك

السؤال الأول: أكمل:



السؤال الأول: **قارن:** بوضع رمز العلاقة المناسب (< أو > أو =) بإمكانك استخدام العناصر.



٤١ ○ ١٤ ٣١ ○ ٦

خطوات المقارنة

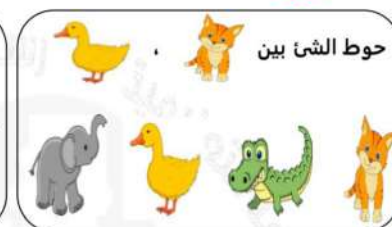
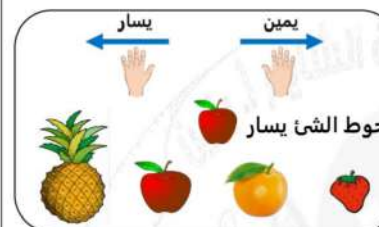
عد المنازل

مقارنة المنزلة الأكبر (عشرات).

مقارنة منزلة الأحاد عد تساوي منزلة العشرات.

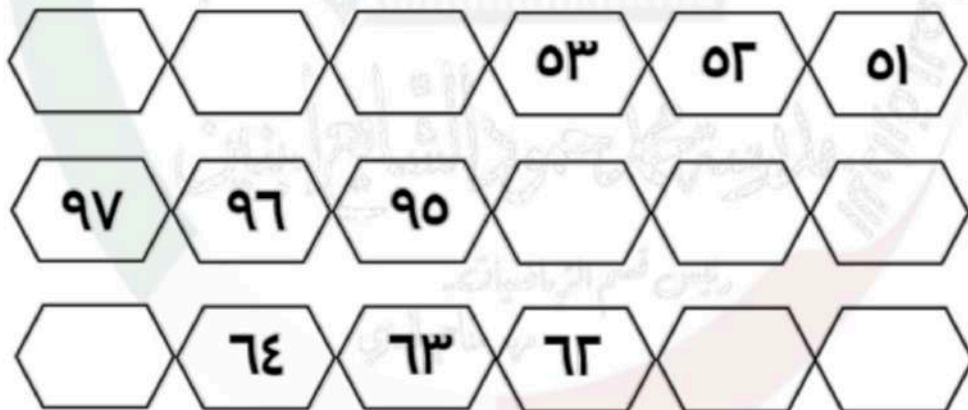
٨٦ ○ ٨٦ ٥٣ ○ ٥٧

السؤال الأول:

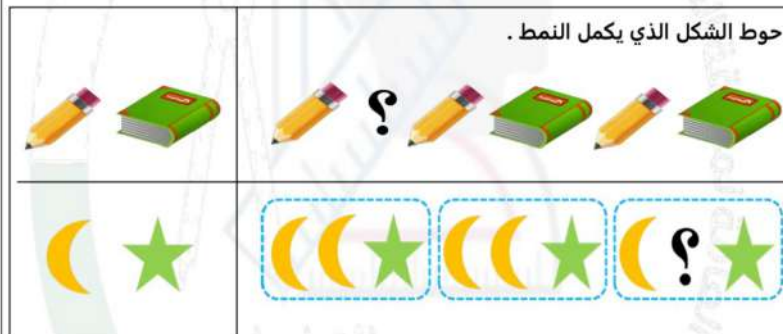


السؤال الثاني: أكمل سلسلة الأعداد:

موقع
المنهاج الكويتية
almanahj.com/kw



السؤال الثاني:



السؤال الثالث:



حوظ النجوم الكبيرة .









السؤال الأول: أكمل الجدول:

العدد	علامات العد	الرياضة المفضلة
٤		
	//###	
٨		

السؤال الثاني:


من خلال التمثيل البياني بالصور، اختر الإجابة الصحيحة بوضع

الرياضة المفضلة	
	
	
	

كل  يمثل
١ شخص

١) ما الرياضة التي يفضلها معظم الأشخاص؟



٢) كم عدد الأشخاص الذين يفضلون  ؟

٧

٤

٣

